

خانم عابدی

آزمون ریاضی

دوم دبستان

نوبت دوم خرداد

جزوہ شہتی

جاهای خالی را کامل کن .

شرح سوال

۵۹

یکان دهگان

۸۲

یکان دهگان

حاصل جمع های زیر را بدست بیاور .

$5 + 10 + 30 + 5 + 5 = \dots\dots\dots$

$20 + 15 + 30 + 5 + 15 = \dots\dots\dots$

در جای خالی عدد مناسب بنویس .

الف) ۵۲ به چه عددی نزدیک تر است ؟ ۴۰ یا ۵۰ ؟

ب) ۷۹ به چه عددی نزدیک تر است ؟ ۷۰ یا ۸۰ ؟

ساعت چند است ؟ بنویس .



ساعت و دقیقه

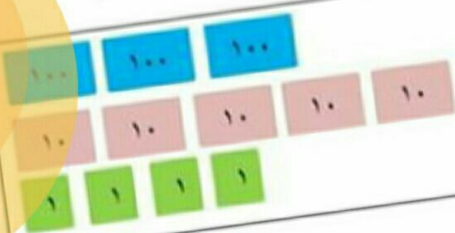


ساعت و دقیقه

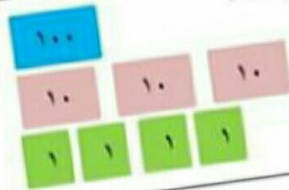
اشکال زیر را رسم کن و تعداد ضلع ها و گوشه های هر یک را بنویس .

دایره	مثلث	مربع	مستطیل	رسم شکل
				تعداد ضلع
				تعداد گوشه

کیسه ها را بشمار و بنویس چند ریال است .



ریال



ریال

اعداد زیر را به عدد و حروف بنویس .



پانصد و هفتاد

ششصد و نود و یک

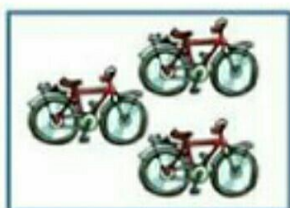
۶۵۲

۹۲۰

تعداد هر قسمت را با کامل کردن جاهای خالی مشخص کن .



..... تا تایی می شود



..... تا تایی می شود




..... تا تایی می شود

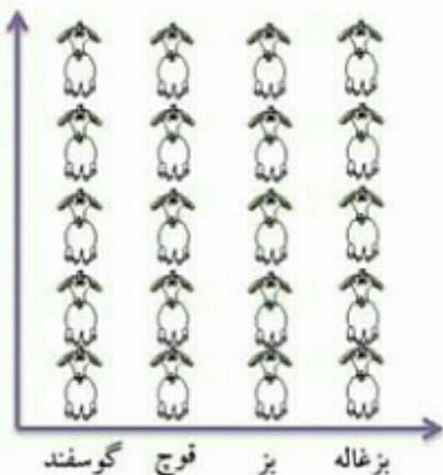


..... تا تایی می شود



جبروه نیستی

آمار حیوانات موجود در یک مزرعه در جدول زیر آمده است . ابتدا تعداد تقریبی حیوانات را به دست آورده و جدول را کامل کن .
اگر هر ۱۰ حیوان را با  نشان دهیم . نمودار زیر را کامل کن . (رنگ بز)



نام حیوان	گوسفند	قوچ	بز	بزغاله
تعداد حیوان	۴۶	۲۱	۳۸	۱۷
تعداد تقریبی				

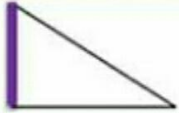


yomiha

در شمارش ۸ تا ۸ تا ، عدد بعد از ۲۴ چه عددی است ؟

- الف (۱۶) ب (۳۲) ج (۲۸) د (۴۰)

در شکل رو به رو خطی که پر رنگ شده است چه نام دارد ؟



- الف (ضلع) ب (گوشه) ج (تقارن) د (نقطه)

در یک کیسه ۸ مهره ی آبی و ۵ مهره ی قرمز انداخته ایم . اگر بدون این که به داخل کیسه نگاه کنیم یک مهره بیرون بیاوریم احتمال این که آن مهره آبی باشد بیشتر است یا قرمز ؟ چرا ؟

پارسا ربع ساعت صبحانه خورد و بعد از آن ۵ دقیقه مسواک زد . این دو کار او چند دقیقه طول کشیده است ؟

- الف (۱۵ دقیقه) ب (۲۵ دقیقه) ج (۲۰ دقیقه) د (۳۰ دقیقه)

بزرگترین عدد سه رقمی که یکان آن ۷ باشد . کدام عدد است ؟

- الف (۹۷۸) ب (۹۹۷) ج (۷۸۹) د (۸۹۷)

عدد ۷۸ تقریباً به کدام عدد نزدیک تر است ؟

- الف (۷۵) ب (۸۰) ج (۹۰) د (۷۰)

گسترده (فرایندی)

جمع و تفریق های زیر را به صورت کوتاه و گسترده پاسخ انجام بده

$$\begin{array}{r} 154 \\ + 599 \\ \hline \end{array}$$

$$\begin{array}{r} 666 \\ - 578 \\ \hline \end{array}$$

کوتاه (تکنیکی)

$$\begin{array}{r} 466 \\ + 239 \\ \hline \end{array}$$

$$\begin{array}{r} 814 \\ - 323 \\ \hline \end{array}$$

@kelasedovomiha

کامل کن . ۳ سانتی متر و ۶ میلی متر برابر است با میلی متر .

هر کدام از اعداد زیر را به خانه ی مربوط به خود وصل کن .



۴۱

۳۴۵

۱۳۶

۹۲

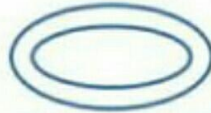
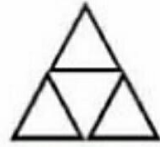
۱۸

۶۷





کدام شکل ها به قسم های مساوی تقسیم شده است ؟ علامت \times بگذار .



ص	د	ی
---	---	---

عددی سه رقمی بنویس که $\underline{۷}$ صدتایی و $\underline{۸}$ ده تایی داشته باشد . در جدول قرار بده

بارقم : باحروف :

عدد را در مربع قرار بده ، ده تاده تا بشمار و جاهای خالی را پر کن .



جزوه سیتی



با توجه به شکل رو به رو به سوالات زیر پاسخ بده .

شکل به قسمت مساوی تقسیم شده است .

..... قسمت از قسمت مساوی این شکل سیاه است .

..... قسمت از قسمت مساوی این شکل سفید است .



مسئله : کتاب داستان آروین ۲۳۰ صفحه دارد . او ۱۸۰ صفحه از کتاب داستانش را خوانده است . آروین چند صفحه از کتاب داستانش را نخوانده است ؟

قد دانیال ۱۲۹ سانتی متر و قد محمد ۱۳۱ سانتی متر است . قد هر دو نفر چند سانتی متر است ؟

@kelasedovomiha